


FEUILLE DE TRAVAIL SUR LE PROBLÈME DE DÉCLINAISON

1. Quelle est la déclinaison pour la carte suivante où :

- l'année courante est 2010,
- la déclinaison moyenne approximative est pour 1998,
- la variation annuelle est croissante de 10.0'?

12°22'



Réponse : _____ est/ouest (encercler une seule direction).

2. Quelle est la déclinaison pour la carte suivante où :

- l'année courante est 2011,
- la déclinaison moyenne approximative est pour 2001,
- la variation annuelle est décroissante de 7.0'?

7°17'




Réponse : _____ est/ouest (encercler une seule direction).

3. Quelle est la déclinaison pour la carte suivante où :

- l'année courante est 2015,
- la déclinaison moyenne approximative est pour 2004,
- la variation annuelle est croissante de 8.32'?

5°53'

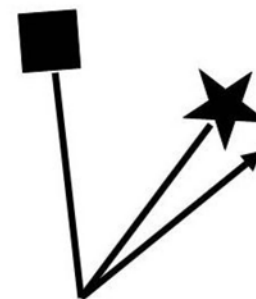


Réponse : _____ est/ouest (encercler une seule direction).

4. Quelle est la déclinaison pour la carte suivante où :

- l'année courante est 2012,
- la déclinaison moyenne approximative est pour 1998,
- la variation annuelle est croissante de 9.57'?

10°24'




Réponse : _____ est/ouest (encercler une seule direction).

5. Quelle est la déclinaison pour la carte suivante où :

- l'année courante est 2014,
- la déclinaison moyenne approximative est pour 2001,
- la variation annuelle est décroissante de 18.0'?

9°30'




Réponse : _____ est/ouest (encercler une seule direction).

6. Quelle est la déclinaison pour la carte suivante où :

- l'année courante est 2015,
- la déclinaison moyenne approximative est pour 2003,
- la variation annuelle est croissante de 2.0'?

17°45'




Réponse : _____ est/ouest (encercler une seule direction).

7. Quelle est la déclinaison pour la carte suivante où :

- l'année courante est 2015,
- la déclinaison moyenne approximative est pour 2003,
- la variation annuelle est décroissante de 11.0'?

14°12'




Réponse : _____ est/ouest (encercler une seule direction).

8. Quelle est la déclinaison pour la carte suivante où :

- l'année courante est 2016,
- la déclinaison moyenne approximative est pour 2009,
- la variation annuelle est décroissante de 2.7'?

7°39'



Réponse : _____ est/ouest (encercler une seule direction).